

1) Aşağıdakilerden hangisinde satır sonuna sığmayan kelimenin yazılışıyla ilgili yanlışlık yapılmıştır?

- A) ilk-~~ı~~ okul  
B) sa-~~ı~~ atçiler  
C) huzu-~~ı~~ revî  
D) bizim-~~ı~~ kiler

2) Aşağıdaki altı gizili kelimelerden hangisi farklı bir anlamda kullanılmıştır?

- A) Dün gece sol kolum ağrıdı.  
B) Sınıfta öğretmenin solunda oturdu.  
C) Saksıdaki çiçekler neden soldu?  
D) Araba soldaki sokağa girdi.

3) Aşağıdaki cümlelerden hangisinde kısaltmaların yazımıyla ilgili bir yanlışlık yapılmamıştır?

- A) T.H.Y.'nin uçakları çok konforludur.  
B) Ben İng.'yi iyi konuşuyorum.  
C) Bugün TRT'de dizi izledim.  
D) PROF. Ahmet Bey konuşma yaptı.

4) "Ahsen dün çok çalıştığı için erkenden uyudu."

Yukarıdaki cümlede hangi sorunun cevabı yoktur?

- A) Ne zaman? C) Kim?  
B) Nasıl? D) Neden?

5) Aşağıdaki kelimeleri alfabetik sıraya koyarsak en sonda hangi kelime olur?

- A) masa B) mandal C) mani D) mangal

Komşu komşunun külüne muhtaçtır.

6) Yukarıdaki atasözünde ne anlatılmak istenmiştir?

- A) Tutumluluk C) Sabretmek  
B) Çalışmak D) Yardımlaşmak

7) "Sınavdan düşük alınca ..... şaşırmadım" cümlesinde noktalı yere hangi kelime getirilemez?

- A) çok B) biraz C) fazla D) pek

8) Aşağıdaki cümlelerden hangisinde soğuk kelimesi mecaz anlamdadır?

- A) Arkadaşım beni çok soğuk karşıladı.  
B) Soğuk havaları pek sevmem.  
C) Havalar biraz soğudu sanki.  
D) Gay biraz soğumuştur.

9) Aşağıdaki cümlelerden hangisinin sonuna farklı bir noktalama işareti gelmelidir?

- A) Okula abim mi geldi  
B) Masadaki silgiyi kim aldı  
C) Ağır mı ağır bir paket taşıdım  
D) Yemek yemiş miydin

10) "O kadar kalabalığın içinde bile ay gibi parlıyordu." cümlesine hangisine örnektir?

- A) Karşılaştırma C) Sebep-sonuç  
B) Örneklendirme D) Benzetme

Türkçe bölümü bitmiştir.

## MATEMATİK 2

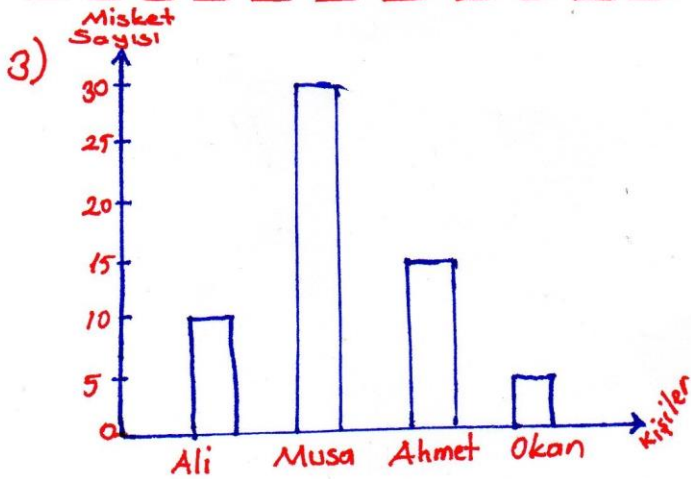
1) Çınar okuldan geldikten sonra saat 13:50'de uyumuş, saat 16:30'da uyanmıştır. Çınar kaç dakika uyumuştur?

- A) 200dk B) 180dk C) 160dk D) 100dk

2) 56 kg unun  $\frac{2}{7}$ 'si ile poğaçı,  $\frac{3}{7}$ 'si ile ekmek yapılmıştır.

Geriye kaç kg un kalmıştır?

- A) 32 B) 24 C) 16 D) 8

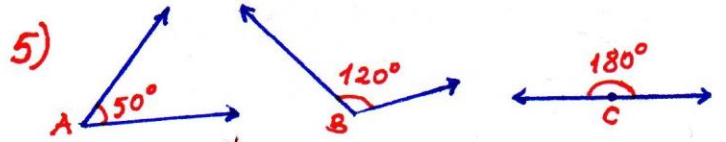


Yukarıdaki grafiğe göre hangi seçenekteki bilgi yanlıştır?

- A) Ali ile Ahmet'in misketleri toplamı Musa'dan fazladır.  
 B) Toplam misket sayısı 60'tır.  
 C) Ali ve Okan'ın misketleri toplamı Ahmet'in misketine eşittir.  
 D) Misketi en az olan Okan'dır.

4) Üçgenlerle ilgili verilen bilgilerden hangisi yanlıştır?

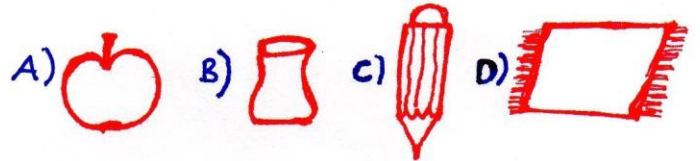
- A) Üçgenlerin üç köşesi vardır.  
 B) İkizkenar üçgenin bütün ken. eşittir.  
 C) Çeşitkenar bir üçgen çeşididir.  
 D) Eşkenar üçgenin bütün ken. eşittir.



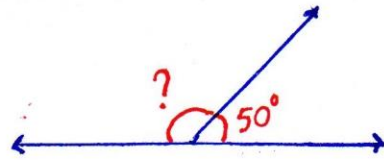
Yukarıda verilen açılar içersinde hangi açı çeşidi yoktur?

- A) DAR AÇI C) GENİŞ AÇI  
 B) DİK AÇI D) DOĞRU AÇI

6) Aşağıdakilerden hangisi düzlemdir?



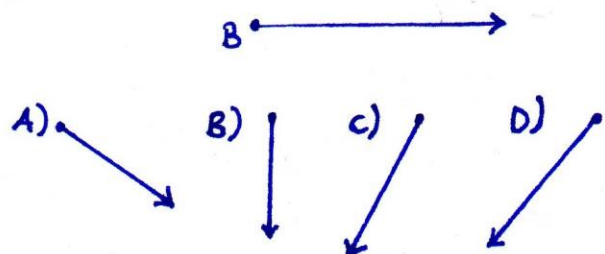
7)



Yukarıda verilmeyen kaç derecedir?

- A) 100° B) 110° C) 120° D) 130°

8) B açısı 30° ise hangi kenar gelmelidir?



## FEN BİLİMLERİ-2

1) Aşağıdaki seçeneklerden hangisinde doğal ışık kaynakları verilmiştir?

- A) mum-yıldızlar
- B) Yıldızlar-ateş böceği
- C) Ay-ateş böceği
- D) Ampul-gaz lambası

2) Işık kirliliği doğal hayatı etkilemez.

Her zaman sarı ışık kullanmalıyız.

Ampul 1879 yılında icat edilmiştir.

Yukarıdaki bilgilere göre hangi seçenek doğrudur?

- A) 

Y
Y
D

 B) 

Y
D
D

 C) 

D
Y
D

 D) 

D
Y
Y

3) Aşağıdaki aydınlatma araçlarından hangisinin kullanımı günümüze en yakındır?

- A) gaz lambası
- B) mum
- C) kandil
- D) meşale

4) Thomas Edison tarafından icat edilen..... sayesinde ses kaydedilmiştir.

Yukarıdaki boş bırakılan alana hangisi yazılmalıdır?

- A) gramofon
- B) CD çalar
- C) kaset
- D) fonograf

5) Aşağıdakilerden hangisi ile sesi kaydedebiliriz?

- A) Mikrofon
- B) Kulaklık
- C) Kaset
- D) Steteskop

## SOSYAL BİLGİLER-2

1) Aşağıdakilerden hangisi çocuğun ailedeki sorumluluklarından değildir?

- A) Odasını ve oyuncaklarını toplamak.
- B) Evdeki kurallara uymak.
- C) Para kazanarak ailesine destek olmak.
- D) Sofra kurmaya yardım etmek.

2) Aşağıdakilerden hangisi çocuğun sadece okulda uyması gereken bir sorumluluk değildir?

- A) Arkadaşlarıyla iyi geçinmek.
- B) Sınıfını temiz tutmak.
- C) Nöbet tutmak.
- D) Parmak kaldırarak öğretmenden söz istemek.

3) Aşağıdakilerden hangisi çocuğun haklarını korumada öncelikli sorumludur?

- A) Devlet
- B) Aile
- C) Öğretmen
- D) Okul

4) Çocuk hakları günü hangi tarihte kutlanır?

- A) 30 Kasım
- B) 20 Eylül
- C) 10 Ekim
- D) 20 Kasım

5) Aşağıdakilerden hangisi çocuğun ailedeki (evdeki) bir sorumluluğu değildir?

- A) Ödevlerimi yaparım.
- B) Kardeşlerimle iyi geçinirim.
- C) Koridorda ve sınıfta koşmam.
- D) Ev işlerine yardım ederim.

**BAŞARILAR**