



ÖRÜNTÜLER

→ Nesneleri, şekilleri ve sayıları belirli bir kurala göre sıralamaya **örüntü** denir.

→ Her **örüntü** belirli bir kurala göre dizilir.



Örüntünün kuralı → 2 kare, 1 üçgen




Örüntünün kuralı → 3 kırmızı dikdörtgen, 1 sarı dikdörtgen




Örüntünün kuralı → 1 kalp, 1 çiçek, 1 gülen yüz

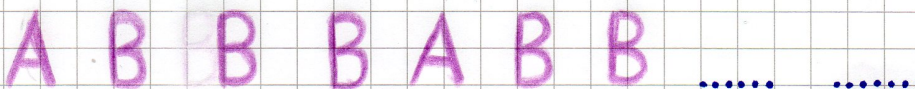
• Aşağıdaki örüntülerin kuralını bulalım. Örüntüdeki eksik kısımları tamamlayalım.



Örüntünün kuralı →



Örüntünün kuralı →



Örüntünün kuralı →